










Wielomiany	Równania wielomianowe	GRUPA	IMIĘ I NAZWISKO
1. Rozwiąż równanie $6x^4 - 7x^3 = -x^2$			Film: 
2. Rozwiąż równanie $3x^5 = 27x^3$			Film: 
3. Rozwiąż równanie $x^3 = 8x^2 - 16x$			Film: 
4. Rozwiąż równanie $x^5 = 64x^2$			Film: 
5. Rozwiąż równanie $x^3 - 4x^2 = 12 - 3x$			Film: 

Wielomiany	Równania wielomianowe	GRUPA	IMIĘ I NAZWISKO
1. Rozwiąż równanie $4x^6 = 3x^4 - 4x^5$			Film: 
2. Rozwiąż równanie $-8x^6 = 16x^4$			Film: 
3. Rozwiąż równanie $x^4 + 100x^2 = 20x^3$			Film: 
4. Rozwiąż równanie $x^7 = -125x^4$			Film: 
5. Rozwiąż równanie $13x^3 + \frac{1}{2}x = 39x^2 + 1\frac{1}{2}$			Film: 